

## Opgave 1 – Wereld: Burkina Faso, Frankrijk en Vietnam

*Bij deze opgave horen de bronnen 1 tot en met 3.*

*Gebruik de bronnen 1 en 2.*

In de koloniale periode is de basis gelegd van het huidige centrum-periferiepatroon. Na de dekolonisatie behoorden Burkina Faso en Vietnam beide tot de groep van perifere landen. Tegenwoordig neemt Vietnam in het wereldsysteem een andere positie in.

- 2p 1 Geef met twee voorbeelden uit bron 2 aan waaruit deze andere positie van Vietnam blijkt.

*Gebruik bron 1.*

In Burkina Faso is door de kolonisatie Frans de officiële taal geworden. In Vietnam is de officiële taal Vietnamees gebleven.

- 2p 2 Beredeneer met bron 1 waarom in Burkina Faso de officiële taal Frans is geworden, maar in Vietnam niet.

*Gebruik de bronnen 2 en 3.*

- 2p 3 Neem de onderstaande tabel over op je antwoordblad. Geef in de tabel aan welk cirkeldiagram uit bron 3 bij elk land hoort en welk leeftijdsdiagram uit bron 3 bij elk land hoort.

	<b>cirkeldiagram</b>	<b>leeftijdsdiagram</b>
Burkina Faso	...	...
Frankrijk	...	...
Vietnam	...	...

*Gebruik bron 1.*

- 2p 4 Geef twee oorzaken waardoor de ligging van Burkina Faso in de huidige globaliserende wereld minder gunstig is dan de ligging van Vietnam.

## Opgave 1 – Wereld: Burkina Faso, Frankrijk en Vietnam

bron 1

### Burkina Faso en Vietnam: voormalige koloniën van Frankrijk

Het huidige Burkina Faso werd aan het eind van de negentiende eeuw gekoloniseerd door Frankrijk. Vóór de komst van de Fransen werd het gebied bestuurd door de Mossi, een van de tien grote etnische groepen die ook nu nog in het land wonen. De kolonie produceerde katoen en leverde slaven aan plantages in andere koloniën. In 1960 werd de kolonie, die toen Boven-Volta heette, onafhankelijk. De naam van het land veranderde in 1984 in Burkina Faso.

De kolonisatie van het huidige Vietnam door Frankrijk begon halverwege de negentiende eeuw. De naam Vietnam bestond toen ook al. Het betekent 'land van de Viet', vernoemd naar de etnische groep waartoe 90% van de bevolking behoort. In de beginjaren van de kolonisatie verdienden de Fransen veel met de verkoop van opium. Later nam het belang van exportproducten als koffie, thee en rubber toe. Na de Frans-Vietnamese oorlog, die in 1954 eindigde, brak de Vietnamoorlog uit. In 1975 ontstond het huidige Vietnam.

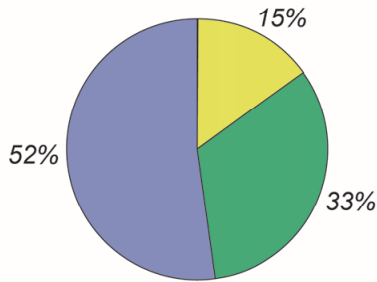


**bron 2****Indicatoren van Burkina Faso, Frankrijk en Vietnam**

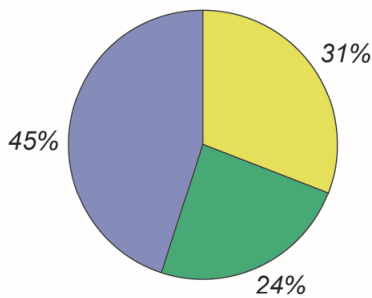
	<b>Burkina Faso</b>	<b>Frankrijk</b>	<b>Vietnam</b>
belangrijkste exportproducten in % van de totale exportwaarde (2017)	edelstenen en edelmetalen: 78,5% katoen: 8,3% ertsen: 5,8%	auto's: 19,6% machines: 19,6% medicijnen: 6%	elektronica: 44% textiel: 10,9% schoenen: 8%
belangrijkste exportbestemmingen in % van de totale exportwaarde (2017)	Zwitserland: 44,9% India: 15,6% Zuid-Afrika 11,3%	Duitsland: 14,8% Spanje: 7,7% Italië: 7,5%	Verenigde Staten: 20,1% China: 14,5% Japan: 8%
urbanisatietempo (2015-2020)	5,29%	0,76%	2,59%

### bron 3 – Diagrammen van Burkina Faso, Frankrijk en Vietnam

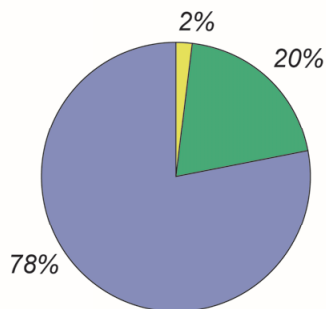
**diagram 1:** verdeling beroepsbevolking (2017)



**diagram 2:** verdeling beroepsbevolking (2017)



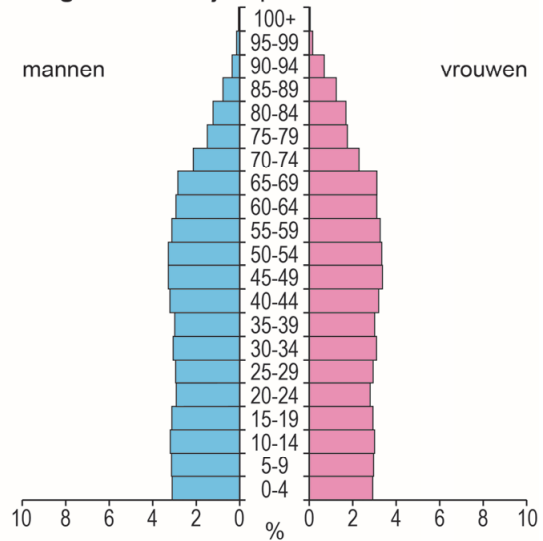
**diagram 3:** verdeling beroepsbevolking (2017)



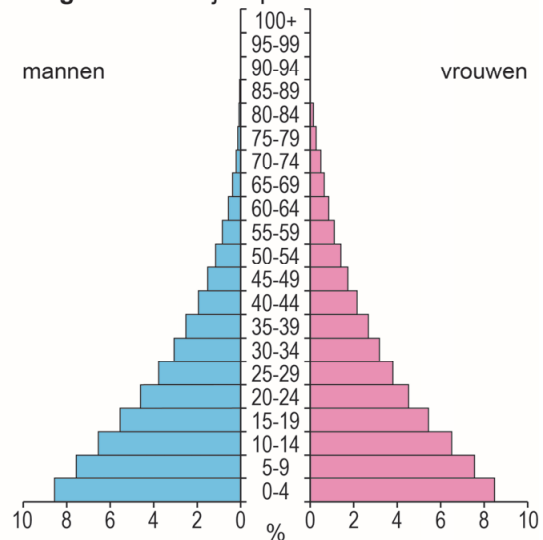
Legenda:

- primaire sector
- secundaire sector
- tertiaire sector

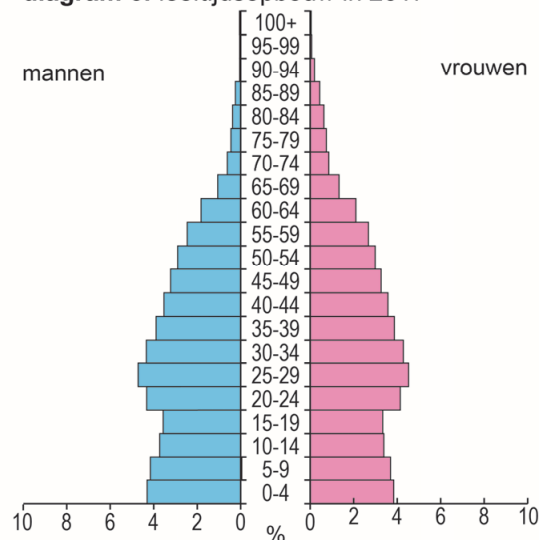
**diagram 4:** leeftijdsopbouw in 2017



**diagram 5:** leeftijdsopbouw in 2017



**diagram 6:** leeftijdsopbouw in 2017



**Bronvermelding**

Een opsomming van de in dit examen gebruikte bronnen, zoals teksten en afbeeldingen, is te vinden in het bij dit examen behorende correctievoorschrift, dat na afloop van het examen wordt gepubliceerd.